

日本の気候

月 日

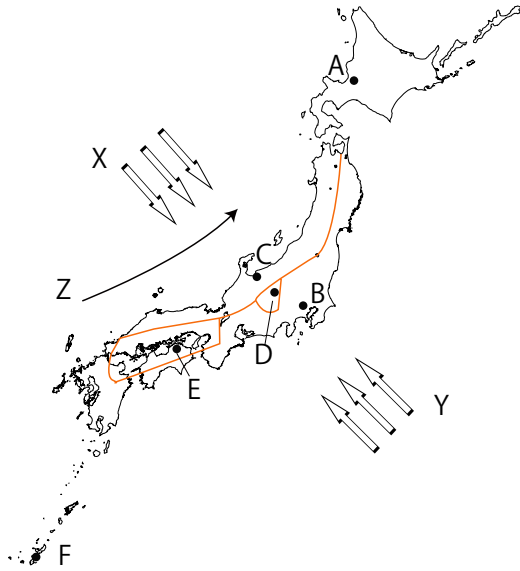
*地図を見て () に語句を書きなさい。

日本のほとんどは () の気候で () の変化がはっきりしている。しかし、北海道は () で

沖縄などの南西諸島の気候は () である。

地図のX, Yは () であり、夏の風向きを示しているのは () である。

Z は () 海流であり、冬に日本海側にたくさんの雪を降らせる原因になっている。



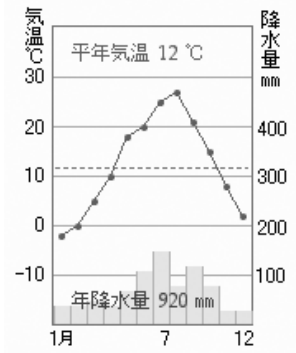
* 地図のA~Fの地域の雨温図を次のア~カからそれぞれ選び記号で答えなさい。

ア

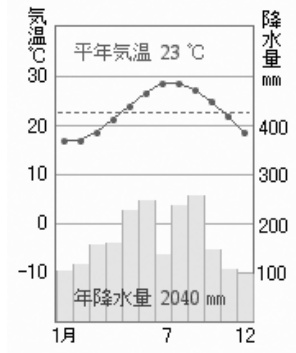
イ

ウ

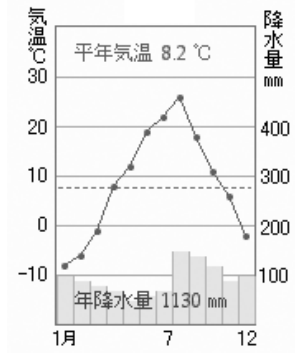
エ



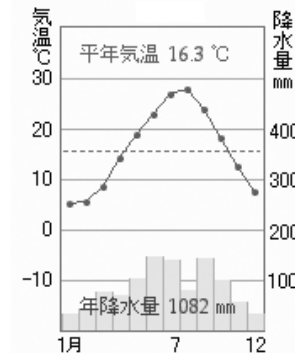
()



()



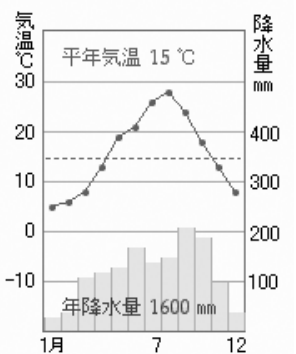
()



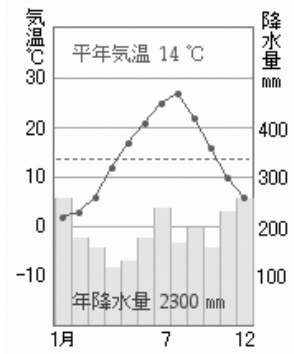
()

オ

カ



()



()

解答

日本のほとんどは (温帯) の気候で (四季)

の変化がはっきりしている。しかし、北海道は (冷帯 (亜寒帯)) で

沖縄などの南西諸島の気候は

(亜熱帯) である。

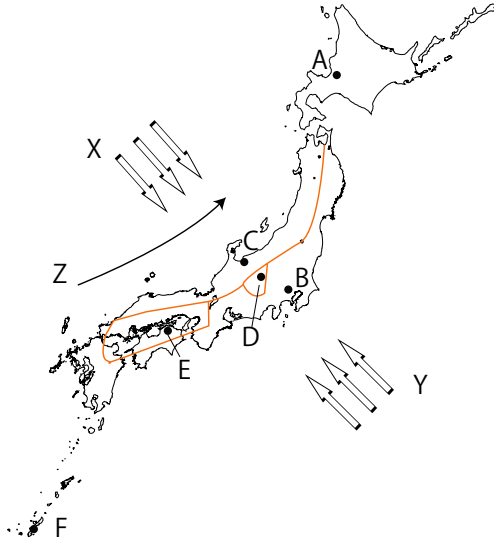
地図のX, Yは (季節風 (モンスーン))

であり、夏の風向きを示しているのは

(Y) である。

Z は (つしま 対馬) 海流

であり、冬に日本海側にたくさんの雪を

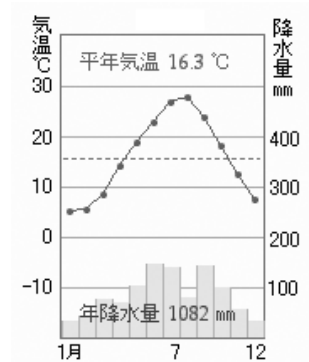
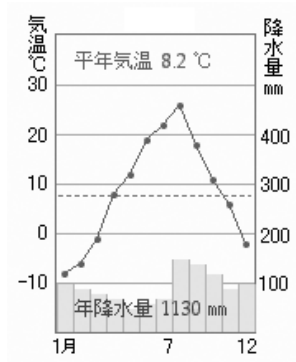
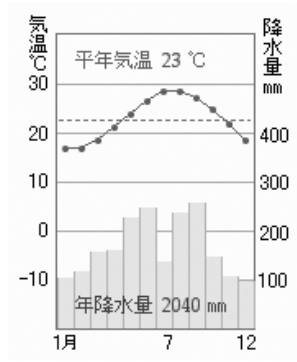
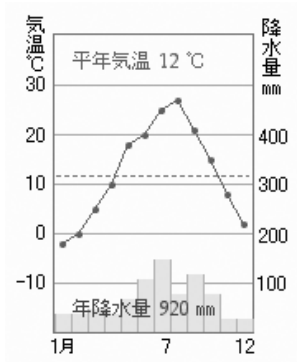


ア

イ

ウ

エ



(D)

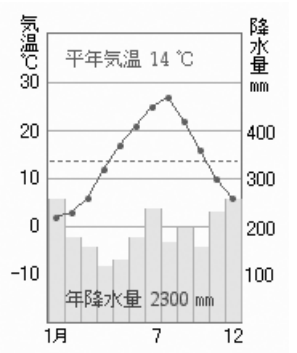
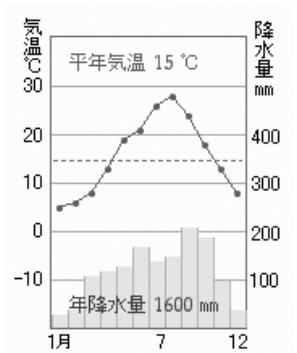
(F)

(A)

(E)

オ

カ



(B)

(C)