

# 天気図記号と乾湿計

NO. 2

名前

点

1 下の表は、雲量と天気の関係をまとめたものです。

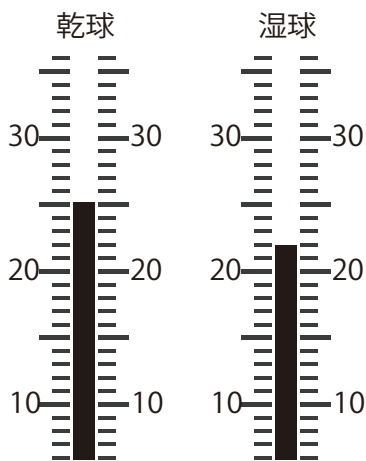
①～⑥にあてはまる天気、天気記号を書きなさい。

雲量	天気	天気記号
0と1	①	④
2～8	②	⑤
9と10	③	⑥

2 次の風向、風力、天気を天気図記号で表しなさい。

南南西の風、風力4、雨

3 下は、乾湿計と湿度表の一部である。次の問いに答えなさい。



乾球 (°C)	乾球と湿球の温度の差 (°C)					
	0	1	2	3	4	5
26	100	92	84	76	69	62
25	100	92	84	76	68	61
24	100	91	83	75	68	60
23	100	91	83	75	67	59
22	100	91	82	74	66	58
21	100	91	82	73	65	57




① このときの気温を求めなさい。

② 表から、このときの湿度を求めなさい。

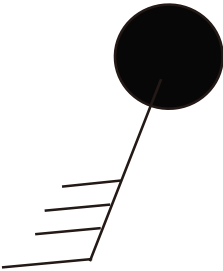
解答

1

- ① 快晴      ② 晴れ      ③ くもり

- ④       ⑤       ⑥ 

2



3

- ① 25 °C

- ② 25 - 22 = 3 °C      76 %