

光の反射

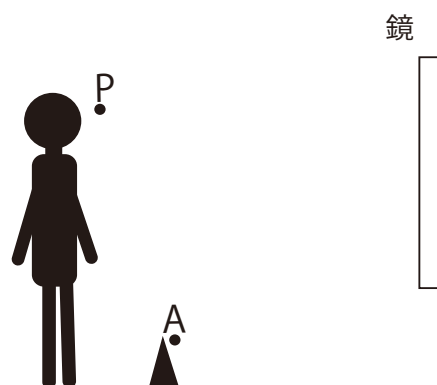
NO. 2

名前

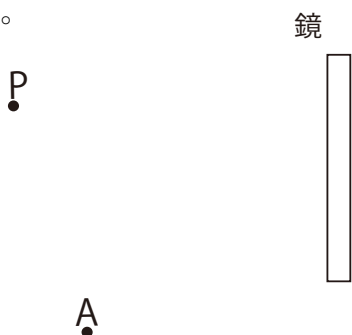
点

1 右図に立っている人の目線P点から
A点においた物体が鏡にうつって
見えた。

このとき次の問いに答え
なさい。

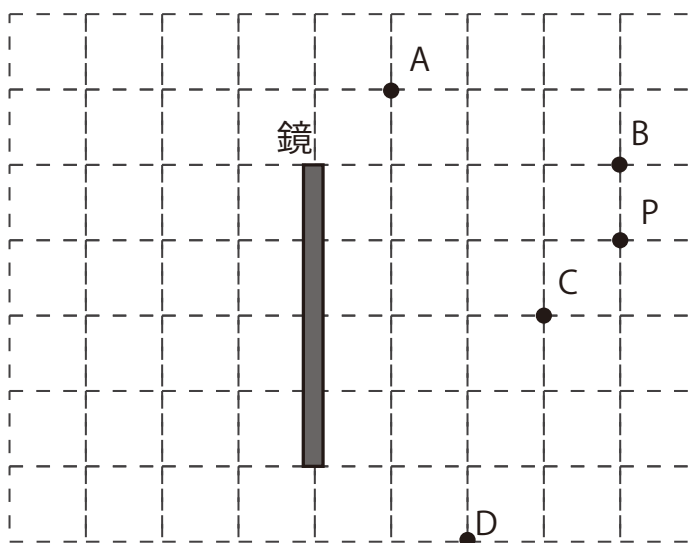


① A点の物体から出た光が
P点に届く道すじを下に作図
しなさい。



② 物を鏡にうつすと、鏡のおくに物体があるように見える。
これをその物体の何というか。

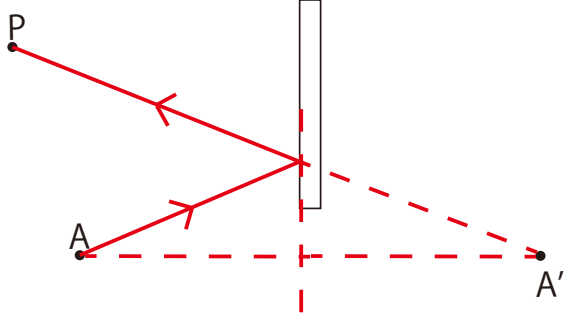
2 下の図のAからDの中で点Pから鏡にうつって見えないものを
答えなさい。



解答

1

①



② 像

2

A

*光が反射してPに届く道すじを作図するとAだけが鏡の範囲外で反射する。

