

# 立体の表面積 1

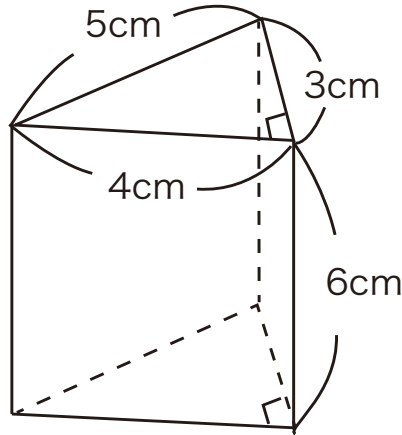
**NO. 1**

名前	
----	--

/ 6 点

1. 右の三角柱の底面積、側面積、表面積をそれぞれ求めなさい。

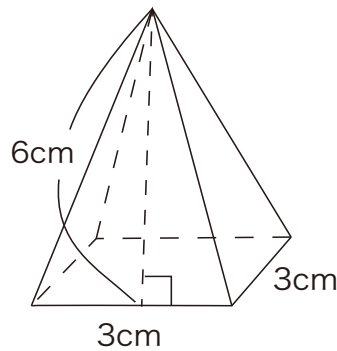
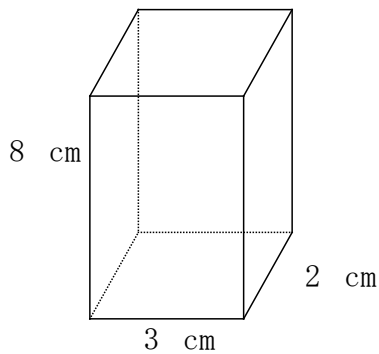
- ① 底面積
- ② 側面積
- ③ 表面積



2. 次の立体の表面積をそれぞれ求めなさい。

① 直方体

② 正四角錐



3 底面の半径が 3 cm、高さが 8 cmの円柱の表面積を求めなさい。

3

