

線対称・点対称 1

名前

／5 点

1 次のア～オの図形について、次の問いに答えなさい。

ア 二等辺三角形 イ 正方形 ウ 正五角形

エ 平行四辺形 オ 正六角形

① 線対称な図形はどれですか。

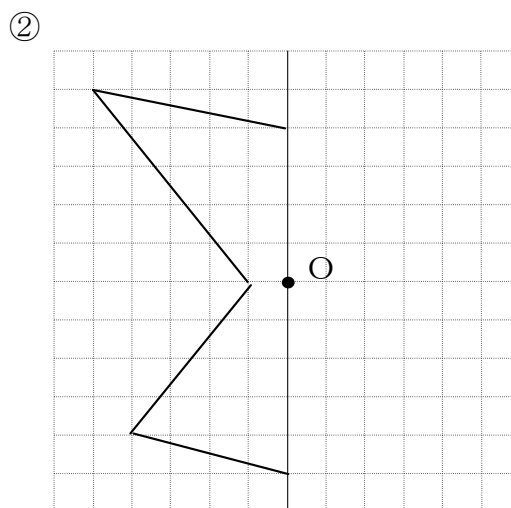
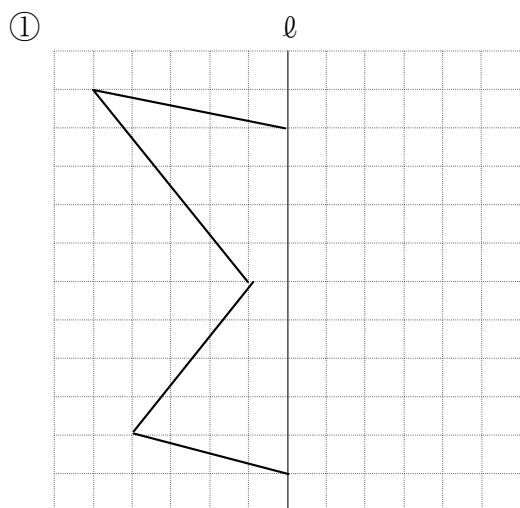
② 点対称な図形はどれですか。

③ 対称の軸がもっとも多くひける図形はどれですか。

2 下の図は、ある図形の一部です。次の①、②のとき図形を完成させなさい。

① 直線 l を軸とした、対称な図形を完成させなさい。

② 点 O を対称の中心とした点対称な図形を完成させなさい。

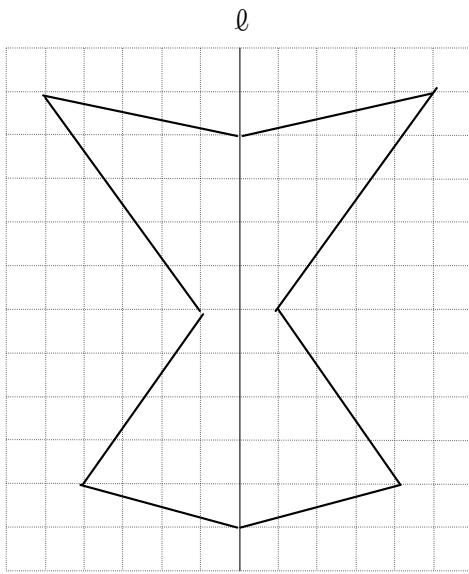


解答

- 1 ① ア、イ、ウ、オ
② イ、エ、オ
③ オ

2

①



②

