

作図 (垂直二等分線)

NO.3

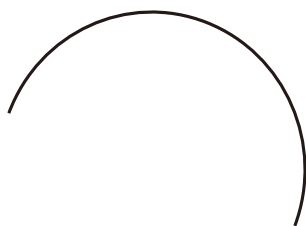
名前	
----	--

/ 3 点

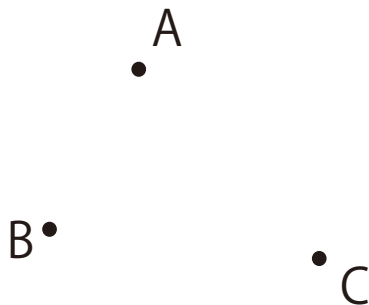
1 下の2点 A,B を通る円の中心Oを作図しなさい。



2 下の半円の中心Oを作図しなさい。

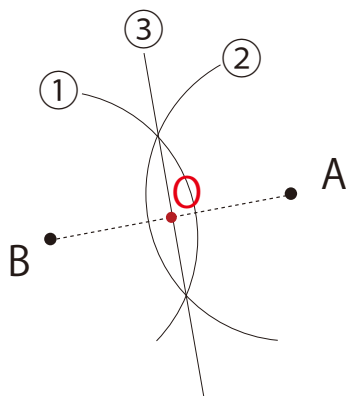


3 下の3点A,B,Cを通る円を作図しなさい。

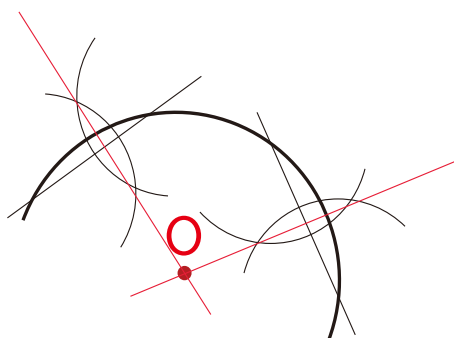


解答

1 直線ABの垂直二等分線を作図する。



2 弦を2本書いて、それぞれの垂直二等分線を作図し、その交点を中心となる。



3 点を繋いだ線分を2本書いて、それぞれの垂直二等分線を作図し、その交点を中心とする円を作図する。

