

## 作図 (垂直二等分線)

**NO.2**

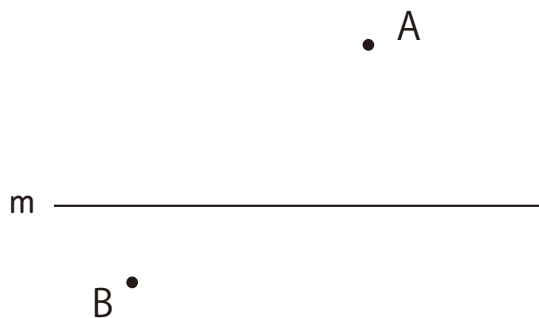
|    |  |
|----|--|
| 名前 |  |
|----|--|

/ 3 点

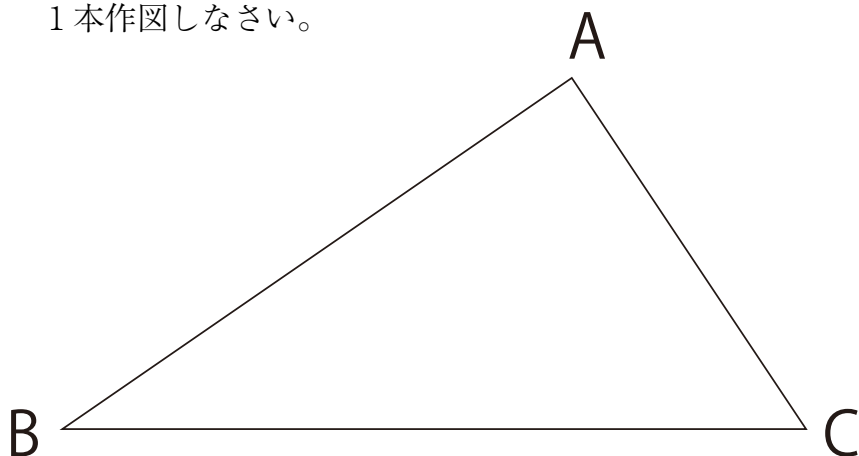
1 線分ABの中点Mを作図しなさい。



2 下の直線 m 上の点で点A,点Bから距離が等しい点 Pを作図しなさい。

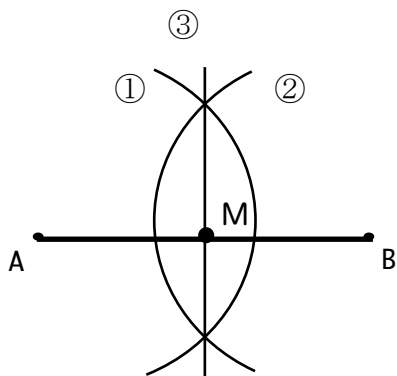


3 下の三角形を面積の等しい2つの三角形に分ける直線を1本作図しなさい。



解答

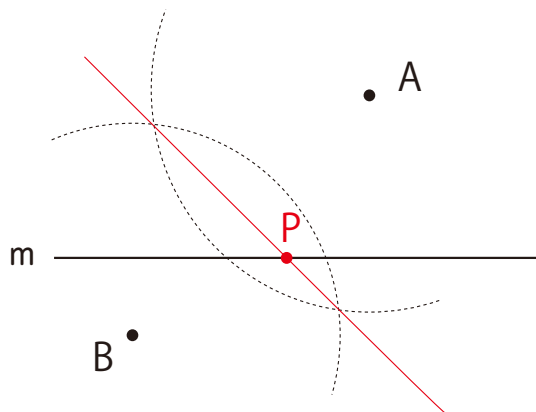
1



\*垂直二等分線の作図で中点をきめる

2

直線ABの垂直二等分線と直線mの交点を作図する。



3

直線BCの中点を作図して、頂点Aと結ぶ。

