

# 一次関数のグラフの書き方

## NO.2

学習日； \_\_\_\_\_

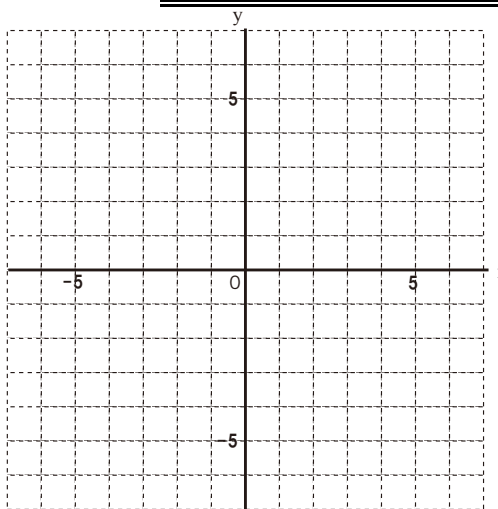
／ 点

1. 次の関数のグラフをかきなさい。

①  $y = x$

②  $y = x + 2$

③  $y = x - 7$

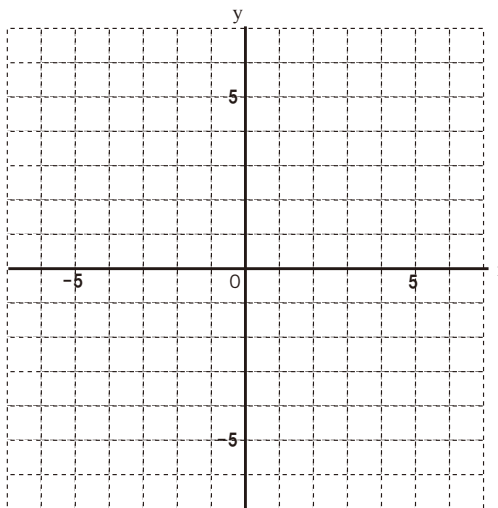


2. 次の関数のグラフをかきなさい。

①  $y = -4x$

②  $y = -4x + 6$

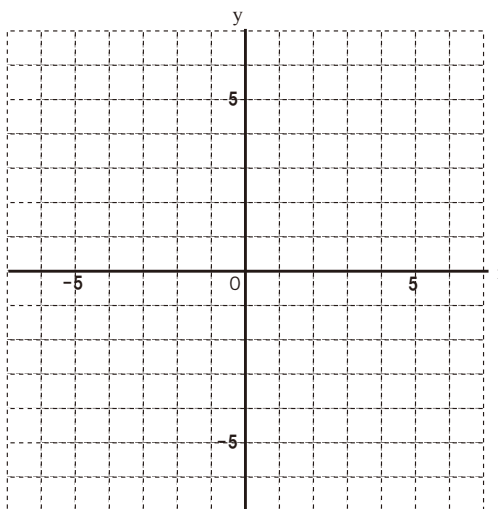
③  $y = -4x - 3$



3. 次の関数のグラフをかきなさい。

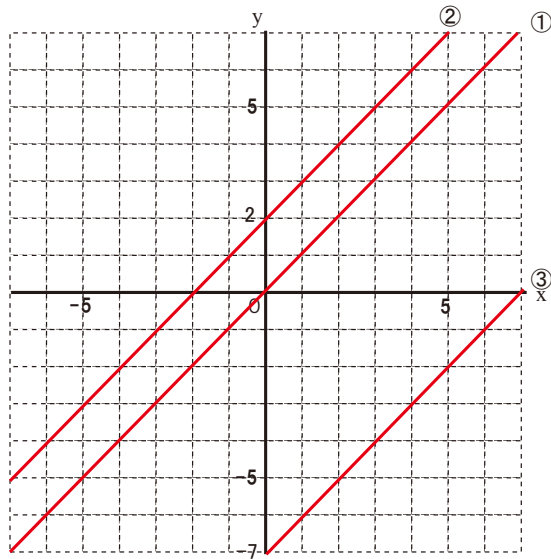
①  $y = 2x + 5$

②  $y = -2x + 5$

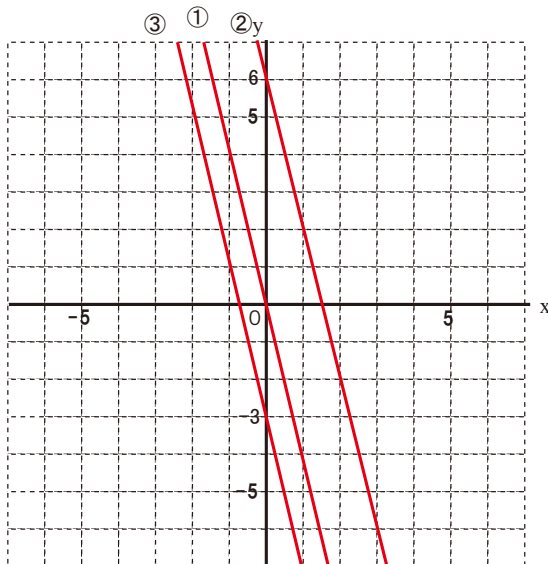


解答

1.



2.



3.

