

一次関数のグラフ 1

NO. 1

名前	
----	--

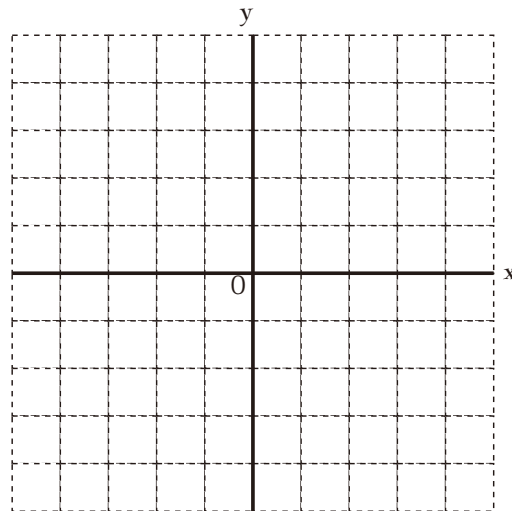
 /8 点

1. 次の関数のグラフをかきなさい。

(1) $y = 2x$

(2) $y = 2x + 3$

(3) $y = 2x - 2$

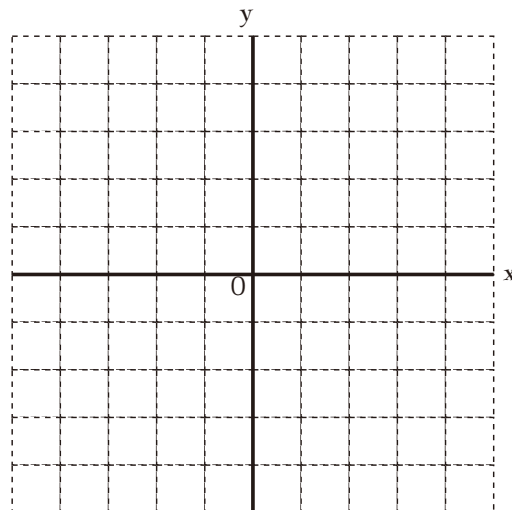


2. 次の関数のグラフをかきなさい。

(1) $y = -3x$

(2) $y = -3x + 1$

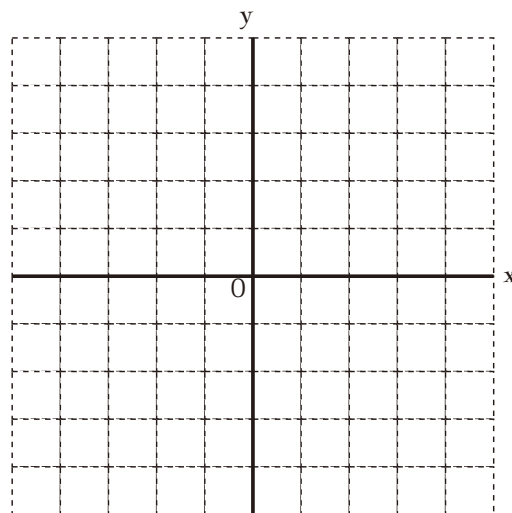
(3) $y = -3x - 3$



3. 次の関数のグラフをかきなさい。

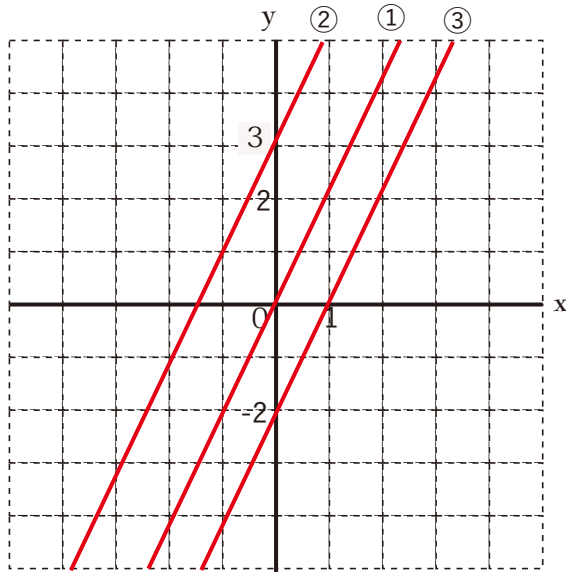
(1) $y = x - 4$

(2) $y = -x - 4$

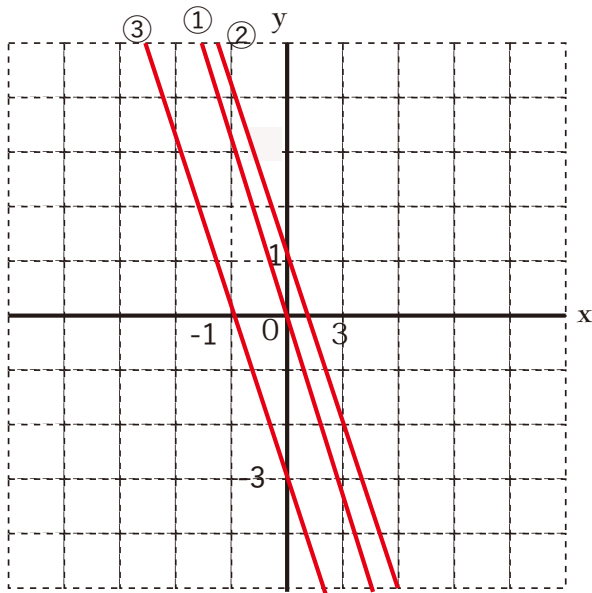


解答

1.



2.



3.

