



















身近な地域 1



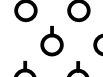
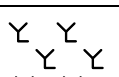

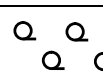
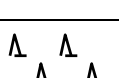
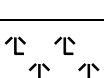

1. 広い地域を地図上で表すために、実際の距離を地図上で縮めた割合を_____という。

 - ① 実際の距離1000mが、地形図上で4cmの距離で表されているとき、その地形図の縮尺は_____分の1である。
 - ② 実際の距離500mが、地形図上1cmの距離で表されているとき、その地形図の縮尺は_____分の1である。
2. 地図上に方位を示す記号や特にこだわりがない場合地図の上は_____を表す。
3. 2万5千分の1や5万分の1の地図を発行している、国土省に属する機関を_____という。
4. 次の地図記号、土地利用の表を完成させなさい。

地図記号

	①		②		③
	④		⑤		⑥
	⑦		⑧		⑨
	⑩		⑪		⑫
	⑬		⑭		⑮
	⑯		⑰		⑱

土地利用

	①		②		③
	④		⑤		⑥
	⑦		⑧		⑨

解答

1. 縮尺 ① 2万5千分の1 ($1000 \times 100000 \div 4 = 25000$)

③ 5万分の1 ($500 \times 100000 \div 1 = 50000$)

2. 北 3. 国土地理院

4.

地図記号

① 市役所 (東京都の区役所) ② 町・村役場 (指定都市の区役所) ③ 警察署

④ 消防署 ⑤ 保健所 ⑥ 郵便局 ⑦ 小・中学校 ⑧ 病院 ⑨ 神社 ⑩ 寺院

⑪ 裁判所 ⑫ 灯台 ⑬ 城跡 ⑭ 工場 ⑮ 発電所、変電所 ⑯ 漁港

⑰ 三角点 ⑱ 水準点

土地利用

① 水田 (田) ② 畑・牧草地 ③ 果樹園 ④ 桑畑 ⑤ 茶畑 ⑥ 広葉樹林

⑦ 針葉樹林 ⑧ 竹林 ⑨ 荒地