

正負の数の加法 導入1

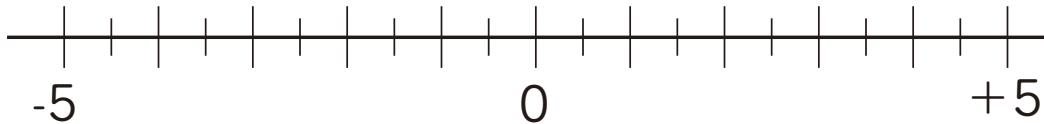
学習日

月 日

名前

点

1 数直線を使って、次の数を求めなさい。



- ① -5 より 4 大きい数を求めなさい。
- ② -3 より 7 大きい数を求めなさい。
- ③ 1 より -3 大きい数を求めなさい。
- ④ -3 より -2 大きい数を求めなさい。

2 次の _____ にあてはまる $+$ または $-$ を書きなさい。

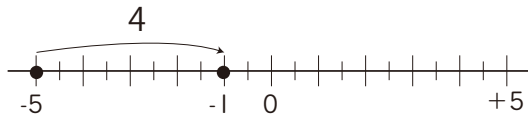
$$\begin{aligned} \text{① } & (+ 5) + (- 9) \\ & = \underline{\quad} (9 \quad \underline{\quad} 5) \\ & = \underline{\quad} 4 \end{aligned}$$

$$\begin{aligned} \text{② } & (- 4) + (- 8) \\ & = \underline{\quad} (4 \quad \underline{\quad} 8) \\ & = \underline{\quad} 12 \end{aligned}$$

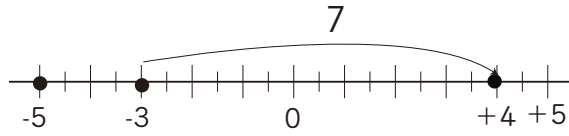
解答

1

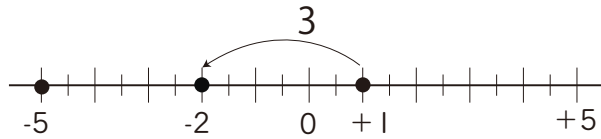
① -1



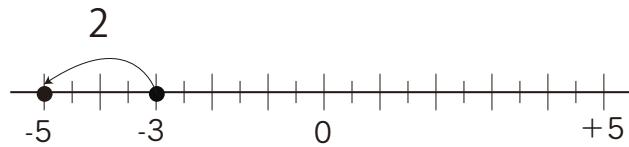
② $+4$



③ -2



④ -5



2

$$\begin{aligned} \text{① } & (+5) + (-9) \\ &= \underline{-} (\overset{9}{\underline{-}} \overset{5}{\underline{-}}) \\ &= \underline{-} 4 \end{aligned}$$

$$\begin{aligned} \text{② } & (-4) + (-8) \\ &= \underline{-} (\overset{4}{\underline{-}} \overset{8}{\underline{+}}) \\ &= \underline{-} 12 \end{aligned}$$