

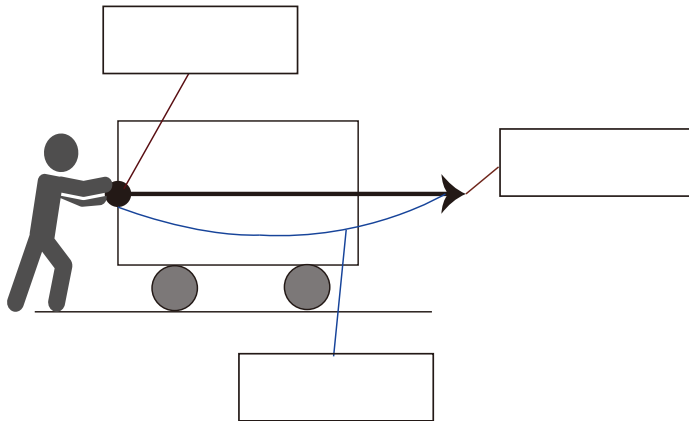
力のあらわしかたと作図

NO. 1

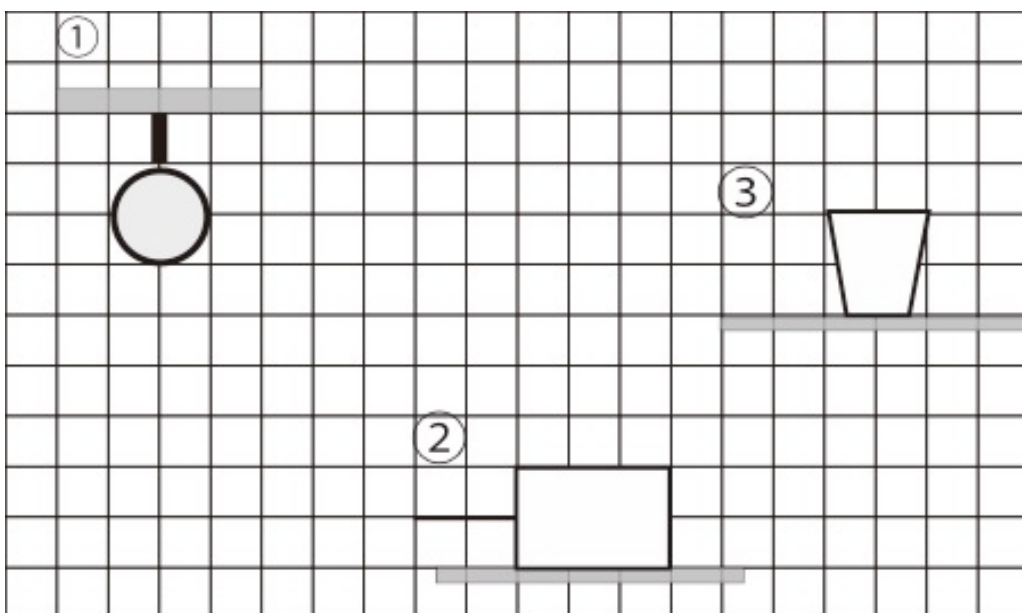
名前

点

- 1 下の図は、人が台車を右向きにおす力を、矢印に向かって表したものである。 にあてはまる言葉を[]から選びなさい。
 [力の大きさ 力のはたらく点 力の向き]

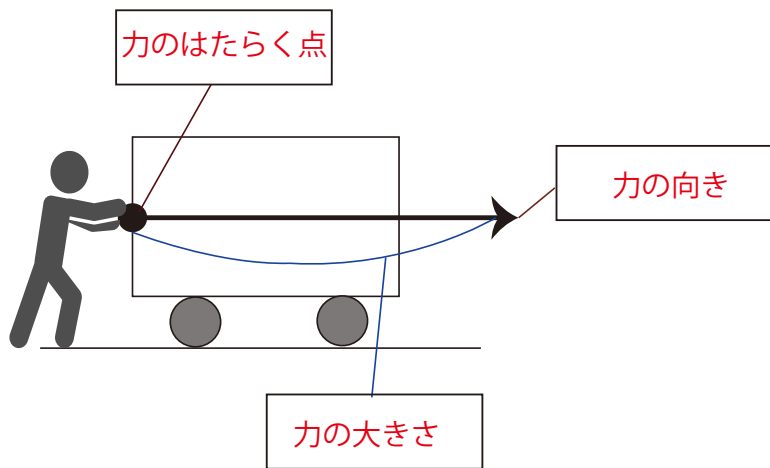


- 2 次の図の①～③の力を作図しなさい。ただし、方眼紙の目盛りは 1 N とする。
- ① 質量 500 g の物体にかかる重力
 - ② 物体を 3 N の力で左に引く
 - ③ 机が 200 g のコップをおす力



解答

1



2

