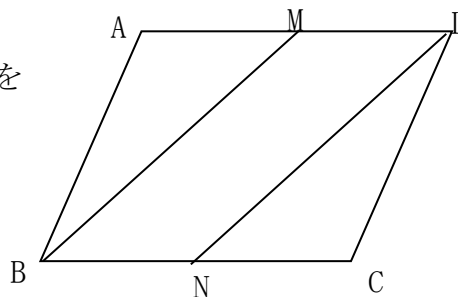


平行四辺形の証明2

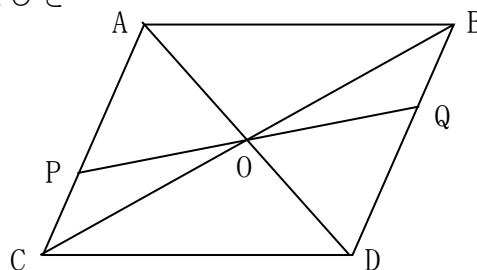
名前

／ 3 点

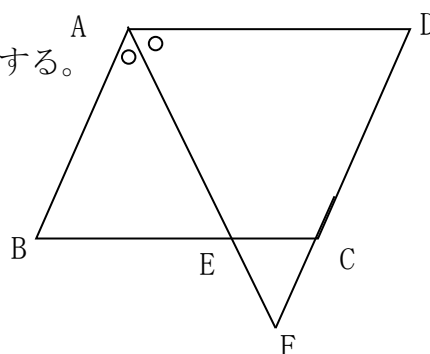
- 1 平行四辺形ABCDのAD, DMの中点をそれぞれM, Nとすると、 $BM=DN$ であることを証明しなさい。



- 2 平行四辺形の対角線の交点Oを通る直線をひきAC, BDの交点をP, Qとする。このとき $OP=PQ$ であることを証明しなさい。



- 3 平行四辺形ABCDの∠Aの二等分線が辺BC, 辺DCを延長した線との交点をそれぞれ、E, Fとする。このとき $AB=BE$ となることを証明しなさい。



解答

1 $\triangle ABM$ と $\triangle CDN$ において
 $AD=CD$ (平行四辺形の対辺) …①
 $AD=CD$ なので $AM = CN$ …②
 $\angle BAM = \angle DCN$ (平行四辺形の対角) …③
 ①、②、③より
 2辺とその間の角がそれぞれ等しいので $\triangle ABM \equiv \triangle CDN$
 よって $BM=DN$

2 $\triangle BPO$ と $\triangle DQO$ において
 平行四辺形の対角線なので $BO=DO$ …①
 対頂角なので $\angle BOP = \angle DOQ$ …②
 $AB//DC$ なので $\angle PBO = \angle QDO$ (平行線の錯角)
 ①、②、③より …③
 1辺とその両端の角がそれぞれ等しいので
 $\triangle BPO \equiv \triangle DQO$
 よって $OP=OQ$

3 仮定より $\angle BAE = \angle DAE$
 $AD//BC$ なので $\angle DAE = \angle BEA$ (平行線の錯角)
 よって $\angle BAE = \angle BEA$
 底角が等しいので $\triangle ABE$ は二等辺三角形になる
 よって $AB=BE$