

# 一次関数のグラフ 1

NO. 2

名前	
----	--

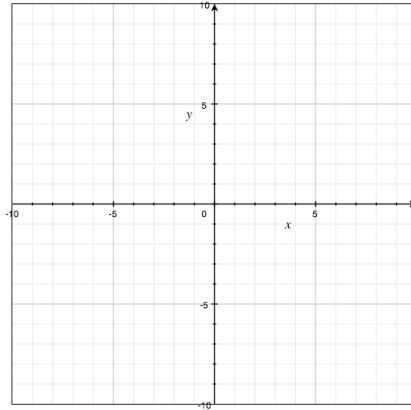
/ 8 点

1. 次の関数のグラフをかきなさい。

(1)  $y = x$

(2)  $y = x + 2$

(3)  $y = x - 7$

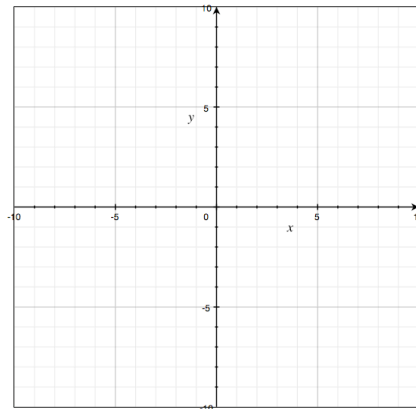


2. 次の関数のグラフをかきなさい。

(1)  $y = -4x$

(2)  $y = -4x + 8$

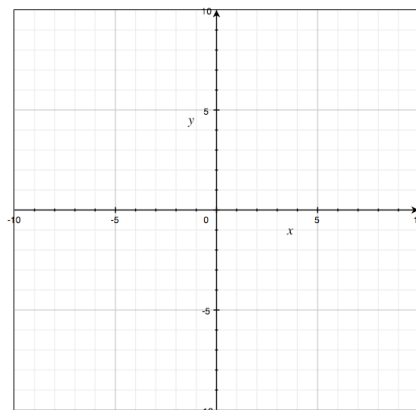
(3)  $y = -4x - 2$



3. 次の関数のグラフをかきなさい。

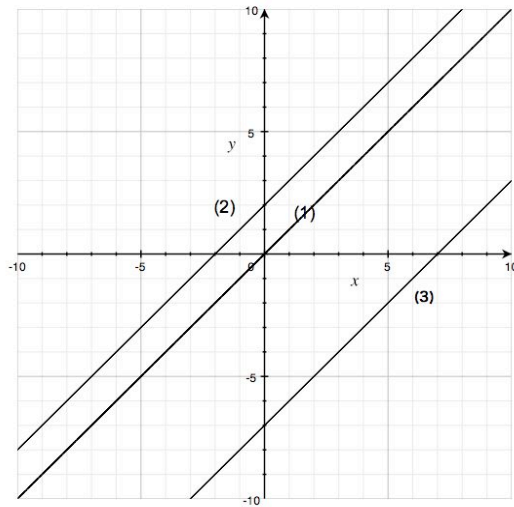
(1)  $y = 2x + 5$

(2)  $y = -2x + 5$

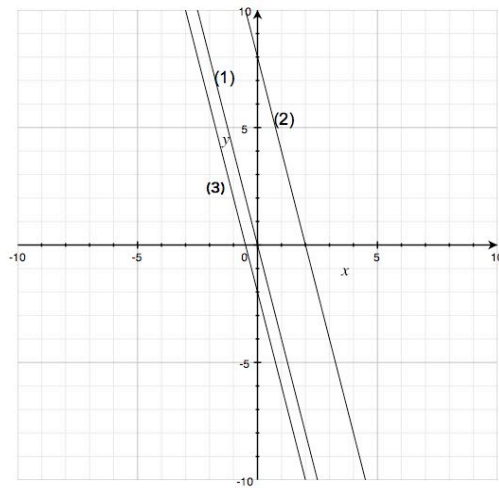


# 解答

1.



2.



3

